

الإسم الشخصي : الإسم العائلي :

1

احسب طول الضلع BC :

الجواب :

A CA+ CA- NA R

2

أعط الجواب الصحيح بخط مغلق :

طول المنزل هو :

15 كيلوغرام ◀

15 مترا ◀

15 لترا ◀

تحتوي القارورة على :

1 كيلومتر ◀

1 لتر ◀

ساعة واحدة ◀

تزن البقرة :

8 00 متر ◀

800 ساعة ◀

800 كيلوغرام ◀

الساعة تشير :

10 لتر ◀

10 أورو. ◀

الساعة العاشرة. ◀

A CA+ CA- NA R

3


ارسم خطا طوله 7 سم انطلاقا من النقطة :



A CA+ CA- NA R

4

ارسم مربعا انطلاقا من الضلع المرسوم :



A CA+ CA- NA R

5

لاحظ الشكل ثم اتمم :

كم هو عدد أضلاع هذا الشكل ؟

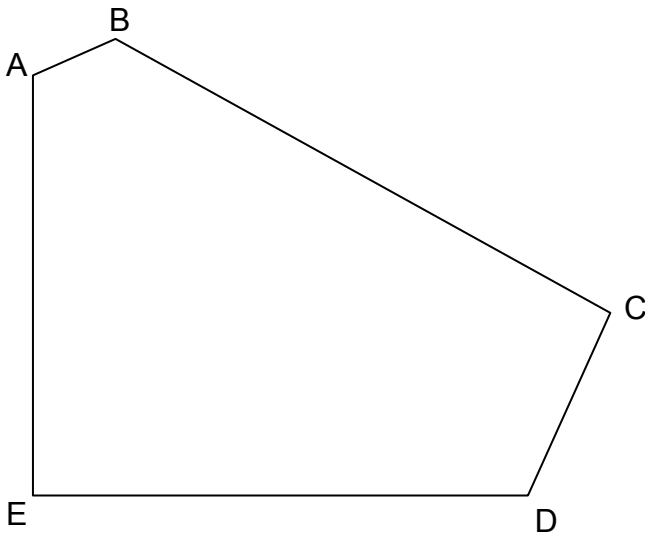
الجواب :

كم هو عدد رؤوس هذا الشكل ؟

الجواب :

كم هو عدد الزوايا القائمة في هذا الشكل ؟

الجواب :



A CA+ CA- NA R

6

أحط بخط مغلق اسم كل شكل :

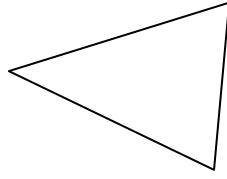


◀ دائرة

◀ مربع

◀ مستطيل

◀ مثلث

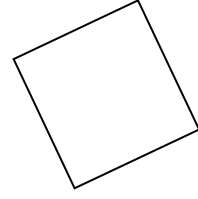


◀ مكعب

◀ مثلث

◀ مستطيل

◀ دائرة



◀ مستطيل

◀ دائرة

◀ مربع

◀ مثلث

A CA+ CA- NA R

7

152

2

14

7

125

41

20

رتب من الأصغر إلى الأكبر :

--	--	--	--	--	--	--	--

A CA+ CA- NA R

8

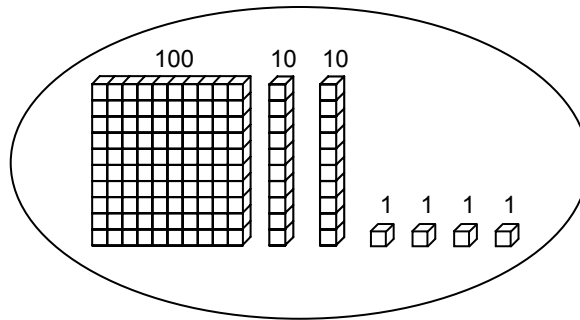
اتمم المتتالية العددية :

150	140	130	50
-----	-----	-----	-------	-------	-------	-------	-------	-------	-------	----

A CA+ CA- NA R

9

أحط بخط مغلق العدد المناسب كما هو في المثال :

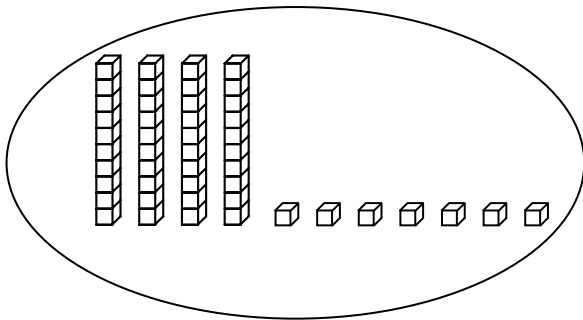


مثال :

421

124

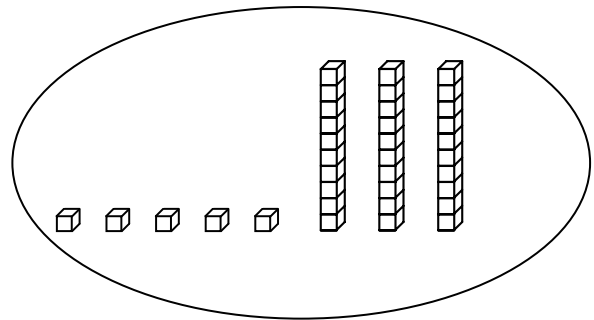
241



84

74

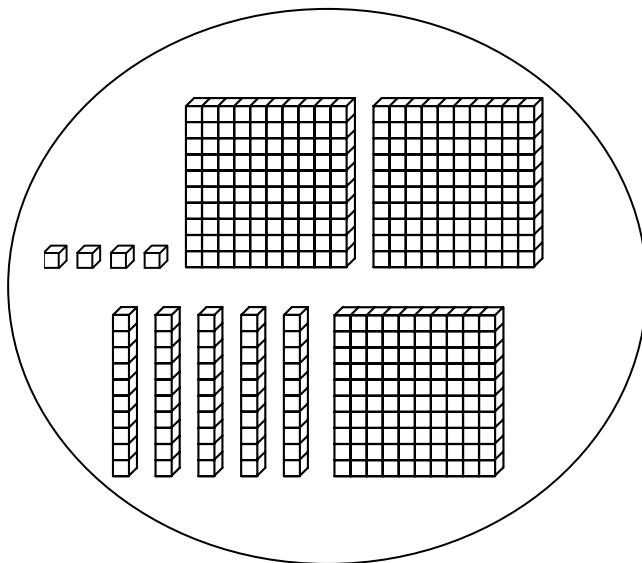
47



35

53

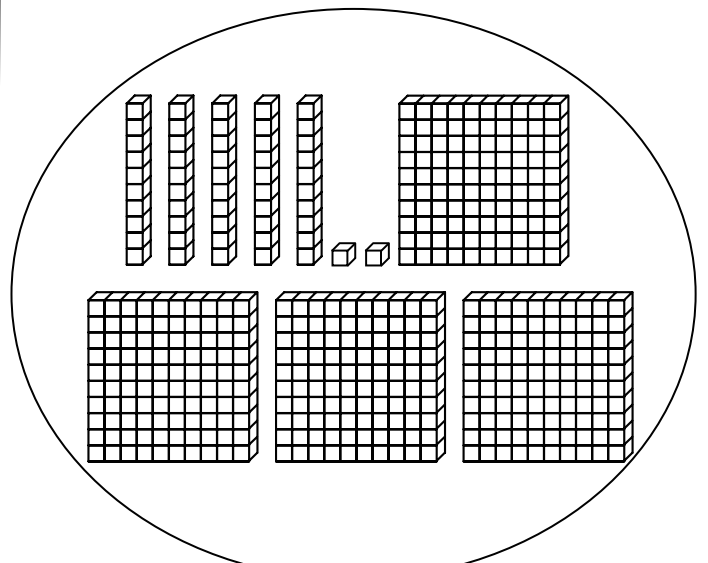
23



354

345

454



542

452

245

A CA+ CA- NA R

10

احسب:

$$\begin{array}{r} 48 \\ + 31 \\ \hline \end{array}$$

$$\begin{array}{r} 166 \\ + 254 \\ \hline \end{array}$$

A CA+ CA- NA R

11

احسب:

$$\begin{array}{r} 87 \\ - 52 \\ \hline \end{array}$$

$$\begin{array}{r} 512 \\ - 139 \\ \hline \end{array}$$

A CA+ CA- NA R

12

احسب:

$$\begin{array}{r} 32 \\ \times 4 \\ \hline \end{array}$$

$$\begin{array}{r} 75 \\ \times 3 \\ \hline \end{array}$$

A CA+ CA- NA R

13

اقرأ المسألة واجب عن السؤال .

a

في قسم يحتوي على 26 تلميذا. وزعت المعلمة 4 كتب لكل تلميذ.
- كم من كتاب وزعت المعلمة في المجموع ؟

الجواب :

b

في لعبة ورق نوزع 32 ورقة على 4 لاعبين.
- ما هو عدد الأوراق لكل لاعب ؟

الجواب :

A CA+ CA- NA R

14

اقرأ المسألة و أخط بخط مغلق الجواب الصحيح :

a

عند توم 14 كرة حمراء و 16 كرة زرقاء.
- كم عنده من كرة في المجموع ؟

▶ $16 - 14$

▶ $14 + 14$

▶ $16 + 14$

▶ $16 + 16$

b

في قسم يوجد 25 تلميذا. 15 تلميذ هم من
الذكور. ما هو عدد الإناث في هذا القسم ؟

▶ $29 + 15$

▶ $15 + 29$

▶ $29 - 15$

▶ 29×15

A CA+ CA- NA R